

mCheck 1 Mallets

Instrumentenkunde

Trage die Nummern in die entsprechenden Felder der Tabelle ein.



Nr	Bezeichnung
	Marimbafon
	Pedal vom Vibrafon
	Glockenspiel
	Xylofon
	Pedal vom Glockenspiel
	Vibrafon

Aus welchem Material sind die Platten bei den folgenden Instrumenten?
(Zutreffendes ankreuzen)

Bezeichnung	Holz	Metall
Marimbafon		
Glockenspiel		
Xylofon		
Vibrafon		

Musiklehre

Trage die Nummern in die entsprechenden Felder der Tabelle ein.

Nr	Bezeichnung
	Zwei Viertel Takt
	Taktstrich
	Violinschlüssel
	Vier Viertel Takt
	5 Linien Notensystem
	Drei Viertel Takt
	Alla Semibreve (vier Viertel Takt)
	Schlusstrich

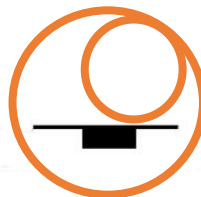


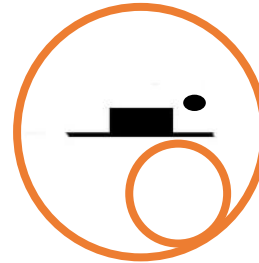
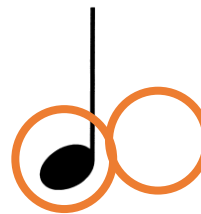
Benenne die folgenden Zeichen mit ihrem Namen und ihrer Funktion:

Name	Funktion
1 _____	_____
2 _____	_____
3 _____	_____
4 _____	_____
5 _____	_____
6 _____	_____

Notenkunde

Trage die Nummern bei den entsprechenden Kreisen ein.

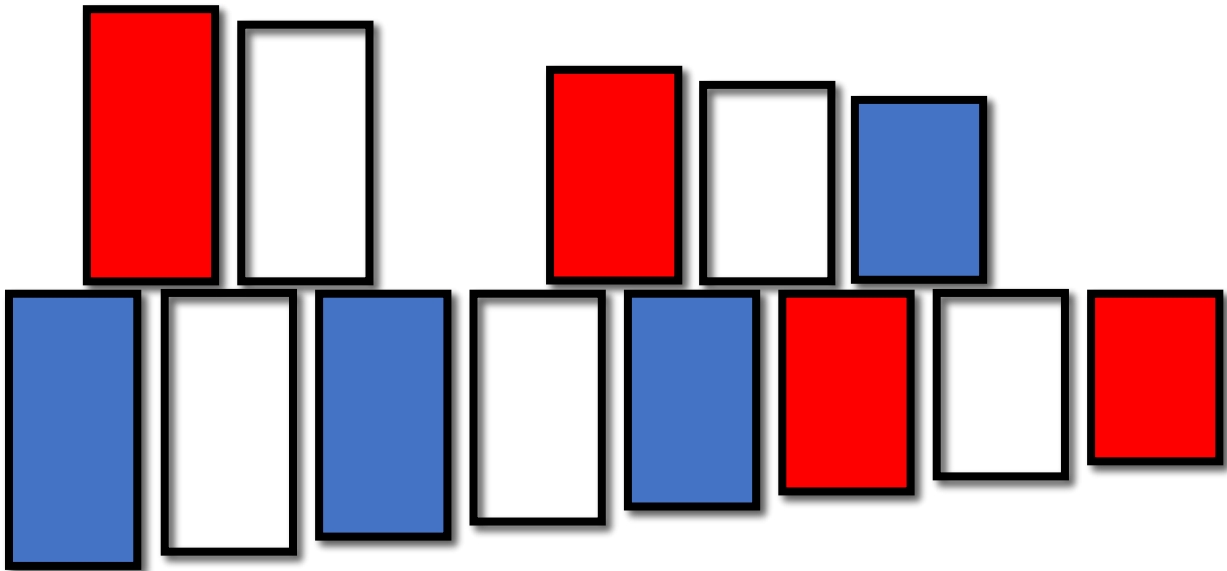
	Bezeichnung
1	Halbe Note
2	Viertelpause
3	Auftakt als Viertel
4	Halbe Pause
5	Achtelnoten
6	Notenkopf
7	Puntrierte halbe Note
8	Notenfähnchen
9	Viertelnote
10	Ganze Pause
11	Notenhals
12	Ganze Note
13	Achtelpause
14	Punktierte halbe Pause



Die Töne

Innerhalb einer Oktave befinden sich verschiedene Töne.
Beim unteren Beispiel musst du verschiedenen Aufgaben lösen.

- Die **BLAUEN** Töne musst du anschreiben.
Die **ROTEN** Töne musst du auf dem Instrument spielen.
Die **WEISSEN** Töne werden abgefragt.



Hier nun eine leere Vorlage, damit verschieden Versionen geübt werden können.

